



සියලු ම හිමිකම් ඇවිරිණි
All Rights Reserved

මූලික පිරිවෙන් අවසන් වාර පරීක්ෂණය - 2023

Primary Piriven Year End Test - 2023

මූලික ශ්‍රේණිය / Grade Primary

ගණිතය

Mathematics

විභාග අංකය

කාලය : පැය දෙකයි

Time : Two hours



සියළුම ප්‍රශ්නවලට පිළිතුරු මෙම ප්‍රශ්න පත්‍රයේ ම සපයන්න.

1. 1 සිට 100 තෙක් සංඛ්‍යා කොටු තුල ලියන්න.

ලකුණු 10

2. පහත සංඛ්‍යා වල සංඛ්‍යා භාමය ඉදිරියෙන් ලියන්න.

- (1) 15 - (2) 58 -
 (3) 97 - (4) 104 -
 (5) 149 - (6) 160 -
 (7) 200 - (8) 209 -
 (9) 271 - (10) 297 -

ලකුණු 10

3. පහත සංඛ්‍යා එකතු කරන්න.

(1) 22 +12 =====	(2) 40 +23 =====	(3) 35 +22 =====	(4) 40 +12 =====	(5) 51 +10 =====
(6) 30 +12 =====	(7) 60 +21 =====	(8) 72 +11 =====	(9) 86 +21 =====	(10) 15 +20 =====

ලකුණු 10

4. පහත දැලියේ චිකතු කරන්න.

(1)

+	2	3	5	7
1				
2				
3				
4				
5				

(2)

+	5	10	15	20
2				
4				
6				
8				
10				

ලකුණු 10

5. 1 පහත සංඛ්‍යා අඩු කරන්න.

(1)

$$\begin{array}{r} 22 \\ -10 \\ \hline \hline \end{array}$$

(2)

$$\begin{array}{r} 45 \\ -13 \\ \hline \hline \end{array}$$

(3)

$$\begin{array}{r} 78 \\ -34 \\ \hline \hline \end{array}$$

(4)

$$\begin{array}{r} 86 \\ -43 \\ \hline \hline \end{array}$$

(5)

$$\begin{array}{r} 62 \\ -31 \\ \hline \hline \end{array}$$

ලකුණු 5

2 පහත සංඛ්‍යා අඩු කර නිවැරදිව යා කරන්න.

1) $15 - 7$

4

2) $20 - 12$

8

3) $10 - 8$

10

4) $25 - 15$

2

5) $10 - 6$

8

ලකුණු 5

6. පහත අගය ගණක රාමු වල දක්වන්න.

(1) 64

ද	ඵ

(2) 87

ද	ඵ

(3) 43

ද	ඵ

(4) 24

ද	ඵ

(5) 75

ද	ඵ


ලකුණු 10

7. සතිය සම්බන්ධව අසා ඇති ප්‍රශ්න වලට පිළිතුරු ලියන්න.

- 1) සතියට දින කීයද?
- 2) සතියේ පලමු දවස කවදා ද?
- 3) සතියේ මැද දවස කවදා ද?
- 4) සතිය ආරම්භක දවස කවදා ද?
- 5) අද සඳුදා නම් හෙට කවදා ද?
- 6) හෙට ඉරිදා නම් අනිද්දා කවදා ද?
- 7) අඟහරුවාදාට පෙර දවස කවදා ද?
- 8) බ්‍රහස්පතින්දාට පසු දවස කවදා ද?
- 9) පාසැල් නිවාඩු දින දෙක කවදා ද?
- 10) අද බදාදා නම් ඊයේ දවස කවදා ද?

ලකුණු 10

8. 1. පහත රූපයේ ඇති හැඩතල ගණන අදාල තීන් ඉර මත ලියන්න.



වෘත්ත -

සමචතුරස්‍ර -

ත්‍රිකෝණ -

සෘජුකෝණාස්‍ර -


ලකුණු 5

2. හිස්තැට අදාල පෙර හෝ පසු සංඛ්‍යාව තීන් ඉර මත ලියන්න.

- | | | |
|---------------|-----------------|------------------|
| (i) 5 | (ii) 38 , | (iii) , 41 |
| (iv) 90 | (v) 99 , | |

ලකුණු 5


9. පහත ඔරලෝසු මුහුණත් වල දී ඇති වේලාව සලකුණු කරන්න.



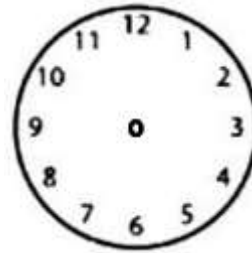
12.00




8.00




11.00




4.00




1.00




9.00




2.00



5.00



3.00



7.00

ලකුණු 10

10. පහත කොටුවේ ඉන්නා නංගිට අනුව දී ඇති දිශා වලින් රූප අඳින්න.

දකුණින් - ගෙයක්

නැගෙනහිරින්

- ගසක්

උතුරින් - ඉර

බටහිරින්

- ලිඳක්



ලකුණු 10